



GOBIERNO DE LA
REPÚBLICA DOMINICANA

EDUCACIÓN

Viceministerio de Supervisión, Evaluación y Control de la Calidad de la Educación
Dirección de Evaluación de la Calidad

Ciencias Sociales

Cuaderno de práctica

Estrategia
de familiarización Evaluaciones
Diagnósticas Nacionales
Sexto Grado Educación Primaria

Enero 2024

Evaluación Diagnóstica Nacional de Sexto Grado de Educación Primaria Instrucciones de Preguntas de Práctica de Ciencias Sociales

En este cuadernillo de ejemplo encontrarás varias preguntas que deberás contestar. Cada pregunta tiene cuatro opciones de respuestas, identificadas con las letras: A, B, C y D. Solo una es correcta. En el cuadernillo debes encerrar con un círculo la letra que acompaña a la respuesta que te parece correcta en cada pregunta.

A continuación, te presentamos un ejemplo de lo que debes hacer.

Lee el siguiente texto:

El historiador Frank Moya Pons, plantea en una de sus investigaciones que del número de naturales de nativos que habitaban en la isla de Santo Domingo en 1492, para 1550 sólo sobrevivían unos pocos y por ellos con la intención de aumentar la población hubo que recurrir a la importación de mano de obra de indios caribes, únicos a los que estaba permitido esclavizar procedentes de otros territorios.

Con relación al mismo tema Fernández de Oviedo plantea ese mismo año de 1533, vinieron en una embarcación al puerto de Santo Domingo de la isla española, hasta sesenta labradores, y la mayor parte de ellos con sus mujeres e hijos para poblar el territorio.

Fuente: Gutiérrez, Antonio. (2010). La estructura económica de Santo Domingo, 1500-1795
Recuperado el 14 de abril del 2023 de: <https://digital.csic.es/handle/10261/63914>

1. De acuerdo con el texto, ¿qué situación en común plantean estos dos autores?

- A)** Que había mucha población en la isla de Santo Domingo.
- B)** Que la población en la Isla comenzó a disminuir significativamente.
- C)** Que la población de la isla comenzó a irse a otras islas del Caribe.
- D)** Que la población de la isla de Santo Domingo no era necesaria.

Se te entregará después una hoja de respuestas con los números de las preguntas y las cuatro opciones (A, B, C, D). Rellena con el lápiz el círculo de la opción que elegiste, sin salirte de él. Pasa aquí la respuesta del ejemplo. Rellena el círculo con la B.

1. A
 B
 C
 D

Si deseas cambiar una respuesta debes borrarla bien y luego rellena la letra que consideras correcta. Cuida la hoja de respuesta. No la dobles, ni la rayes, ni la rompas. NO olvides al final pasar en ella tus respuestas del cuadernillo.

Encontrarás al final dos preguntas que son abiertas, no hay opciones de respuestas. Tú debes escribir la respuesta en el espacio en blanco.

Recuerda no fijarte ni conversar con tu compañero.

Cuando finalices, revisa bien y entrega el cuadernillo y la hoja de respuesta a tu profesor. Cuando te lo indiquen, comienza a responder las preguntas de práctica.

1.- Lee la siguiente información:

En Níger, un grupo militar, reunido en una plataforma autodenominada Consejo Nacional para la Salvaguardia de la Patria (CLSP), anunció en la televisión gubernamental la destitución del presidente, además de la suspensión de las instituciones, un toque de queda nocturno hasta nueva orden y el cierre de las fronteras. Los miembros del CLSP llamaron a los integrantes de las Fuerzas Armadas y la Guardia Nacional a sumarse a su levantamiento contra el gobernante. La junta militar golpista ha suspendido la Constitución de 2010 y mantienen al presidente electo retenido dentro del palacio presidencial separado de su familia.

RTVE (6 de agosto, 2023) Tomado y adaptado de: <https://www.rtve.es/noticias/20230806/claves-golpe-estado-niger/2452993.shtml>

Si la situación planteada sucediera en la República Dominicana y de acuerdo con la Constitución, ¿qué poder del Estado se estará vulnerando con la acción de los militares?

- A)** Judicial.
- B)** Ejecutivo.
- C)** Municipal.
- D)** Legislativo.

2.- Lee la siguiente información:

Circuló un video en las redes sociales donde se muestra a una señora utilizando métodos inadecuados de crianza con su hijo menor de edad, luego de que el adolescente se hiciera rayas en las cejas, con fines estéticos, sin el consentimiento de ella.

Hoy (13 de junio, 2023) Tomado y adaptado de: <https://hoy.com.do/conani-ofrecera-orientacion-a-mujer-que-rasuro-ceja-a-su-hijo-menor-de-edad/>

De acuerdo con la información anterior, ¿qué derecho se le vulneró al adolescente al publicar el video, según lo establece la Constitución?

- A)** Derecho al libre desarrollo de la personalidad.
- B)** Derecho a la libertad y seguridad personal.
- C)** Derecho a la intimidad y el honor personal.
- D)** Derecho a la seguridad social.

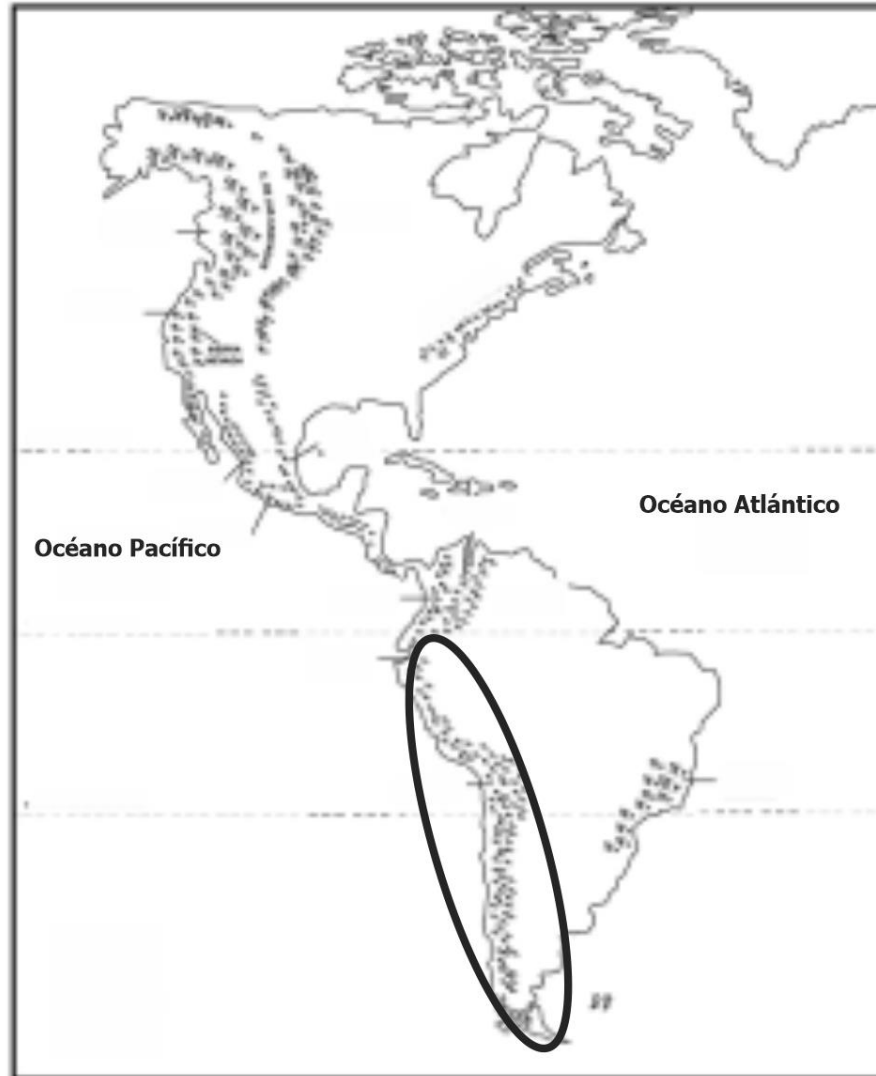
3.- Observa el siguiente mapa:



De acuerdo con el mapa, ¿qué concepto geográfico representa la parte encerrada en el óvalo?

- A)** Bahía.
- B)** Península.
- C)** Archipiélago.
- D)** Promontorio.

4.- Observa el siguiente mapa:



De acuerdo con el mapa, ¿qué concepto geográfico representa la parte encerrada en el óvalo?

- A)** Sierra.
- B)** Meseta.
- C)** Montaña.
- D)** Cordillera.

5.- Un historiador quiere investigar sobre la civilización fenicia, para conocer la cuna del alfabeto y lee dos autores diferentes.

Fuente 1	Fuente 2
<p>Los fenicios eran los antiguos pobladores del Levante, en la costa oriental del mar Mediterráneo, región conocida en ese entonces como Canaán. Fueron grandes navegantes, que establecieron rutas comerciales a lo largo del Mediterráneo, el Egeo y el mar Negro.</p> <p>Se asentaron en el Levante, un territorio que se extiende a lo largo de la costa del Mediterráneo, entre el mar y los montes del Líbano, desde la desembocadura del río Orontes, al norte, hasta la bahía de Haifa al sur. Actualmente, este espacio lo ocupan los países del Líbano, Israel, Siria y Palestina.</p>	<p>Fenicia fue una antigua civilización compuesta por ciudades-Estado independientes situadas a lo largo de la costa del mar Mediterráneo que se extendía por lo que hoy es Siria, Líbano y el norte de Israel. Los fenicios eran un gran pueblo marítimo y expertos comerciantes, conocidos por sus formidables barcos adornados con cabezas de caballo en honor a su dios del mar, Yamm, hermano de Mot, el dios de la muerte.</p>
<p style="text-align: right;">Fuente: https://humanidades.com/fenicios/#ixzz8PZTi8RBt</p>	<p style="text-align: right;">Fuente: https://worldhistory.org/trans/es/1-183/fenicia</p>

¿Cuál de las siguientes informaciones **NO** se encuentra en ambas fuentes?

- A) Se desarrollaron a lo largo de la costa del mar Mediterráneo.
- B) Fueron grandes navegantes estableciendo rutas comerciales.
- C) Actualmente estos espacios lo ocupan los territorios de los países del Líbano, Siria e Israel.
- D) Conocidos por sus formidables barcos adornados con cabezas de caballo en honor a su dios Yamm.

6.- Lee la siguiente información:

Un supermercado internacional se distingue de los demás por algo muy particular: todos los productos que vende están por vencerse o ya están vencidos (y es intencional). Claro que todos estos productos se encuentran, en realidad, en perfecto estado, ya que, las fechas de caducidad son elegidas arbitrariamente por los fabricantes. Estas fechas son una aproximación, no una exactitud, por lo que un producto que, según su fecha, ya está vencido, en realidad puede estar en perfectas condiciones para ser consumido, aún semanas o meses luego de dicha fecha.

El objetivo del supermercado es disminuir el desperdicio de comida y promover una actitud consciente de parte de los consumidores.

Univisión (26 de marzo, 2018) Tomado y adaptado de:
<https://www.univision.com/entretenimiento/cultura-pop/este-supermercado-vende-productos-vencidos-y-es-todo-un-exito>

Si esta situación pasara en la República Dominicana, ¿qué institución del estado tendría que intervenir en el supermercado?

- A)** Ministerio de Medio Ambiente.
- B)** Ministerio de Educación.
- C)** Pro Consumidor.
- D)** Juzgado de Paz.

7.- Lee la siguiente información:

Se detectó un fraude en la venta de gasolina en dos estaciones ubicadas en una provincia del país. El fraude fue detectado por inspectores de la Dirección General de Normas y Sistema de Calidad (Digenor), al medir los dispensadores con un equipo Serafín que determinó que por cada galón vendido se sustraían un cuarto aproximadamente. La primera estación tenía doce dispensadores alterados, mientras que la segunda, tenía cinco de seis dispensadores alterados. Las estaciones fueron multadas por la entidad responsable.

Listín Diario (8 DE NOVIEMBRE, 2011) Tomado y adaptado de: <https://listindiario.com/la-republica/2011/11/11/210580/Pro-Consumidor-detecta-fraude-en-dos-estaciones-de-gasolina.html>

Según la información anterior, ¿qué institución tiene la función de multar a los propietarios de las estaciones de gasolina?

- A)** Instituto Nacional de la Salud (INSALUD).
- B)** Instituto Dominicano para la Calidad. (INDOCAL).
- C)** Instituto Dominicano de las Telecomunicaciones (INDOTEL).
- D)** Instituto Nacional de Protección los Derechos del Consumidor (PRO CONSUMIDOR).

8.- Lee la siguiente información:

María es propietaria de una vivienda y se siente impotente y desesperada ante la negativa de un inquilino que se niega a entregar de forma amigable la casa donde vive. Ella ha reclamado el inmueble por el incumplimiento de pago, debido a que solo ha recibido el monto de las primeras ocho mensualidades y la persona lleva viviendo en su propiedad casi 5 años.

Mendez. W, (Listín Diario, 15 de marzo, 2022) Tomado y adaptado:
<https://listindiario.com/la-republica/2022/03/15/713004/lleva-5-anos-sin-pagar-el-alquiler-de-la-casa.html>

Según la información anterior, ¿qué institución tiene la función de ordenar el desalojo del inquilino que vive en la casa de María?

- A)** Juzgado de Paz.
- B)** Ministerio de Hacienda.
- C)** Ministerio de Obras Públicas.
- D)** Ayuntamiento del municipio.

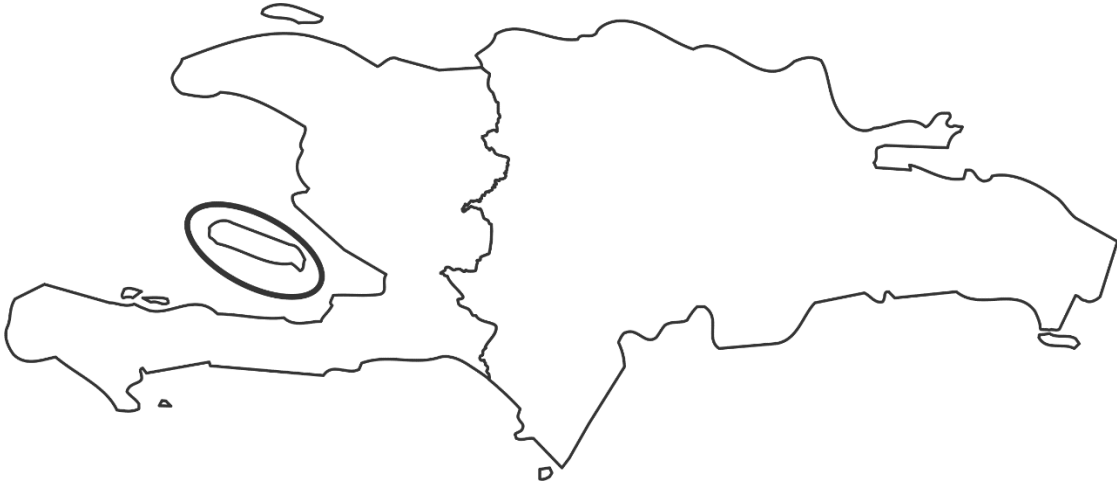
9.- Lee la siguiente información:

En un sector capitalino, las señales de tránsito están muy deterioradas producto del paso del tiempo, algunas han desaparecido de calles, avenidas, autopistas y carreteras y en otros lugares nunca han estado colocadas en los tramos que así lo ameriten. Producto de esta situación se está generando el caos en las intersecciones, lo cual genera a la situación una gran preocupación para los moradores de esa comunidad.

¿A quién se debe acudir para buscar solución al problema planteado en la información?

- A)** Gobernador.
- B)** Diputado.
- C)** Regidor.
- D)** Síndico.

10.- Observa el siguiente mapa:



De acuerdo con el mapa anterior, ¿qué nombre recibe la parte encerrada en el óvalo?

- A)** Isla.
- B)** Cayo.
- C)** Península.
- D)** Islote.

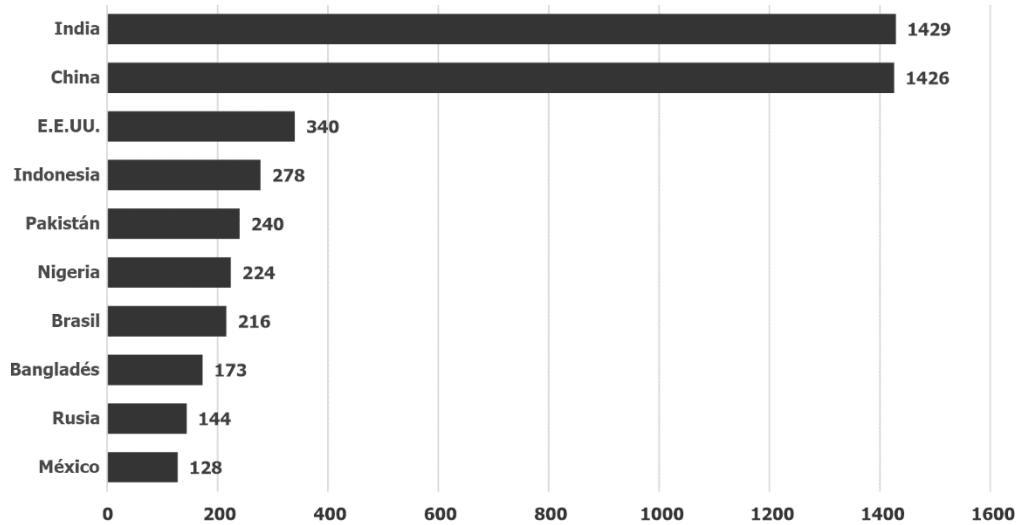
11.- Lee el siguiente texto:

Rosa hace turismo interno, el mes pasado publicó en YouTube un video donde se observa un lugar con un paisaje bioclimático (o bioma) que puede ser cálido o helado y que se caracteriza por tener pocas precipitaciones o lluvias, tiene temperaturas extremas y un suelo árido.

¿A qué tipo de paisaje hace referencia el video de YouTube publicado por Rosa?

- A)** Desértico.
- B)** Frío.
- C)** Templado.
- D)** Tropical.

13.- Observa el siguiente gráfico de ranking de los 10 países más poblado del mundo:



Tomado de: <https://www.eleconomista.com.mx/arteseideas/Los-10-paises-mas-poblados-del-mundo-Mexico--en-la-posicion-10-20230524-0040.html>

De acuerdo con el gráfico anterior, una semejanza que presentan los dos países poblados es que pertenecen al continente

- A)** europeo.
- B)** asiático.
- C)** africano.
- D)** americano.

14.- Lee el siguiente texto:

Siendo casi las 9:00 de la mañana ya es visible el crucero que se aproxima este jueves al puerto de Cabo Rojo para inaugurar la primera etapa de este proyecto, el cual incluirá hoteles ecológicos de lujo, un aeropuerto con generación de energía sostenible, además de la construcción de viviendas en los alrededores del proyecto.

Los preparativos en el entorno del puerto Cabo Rojo, donde desembarcará el primer crucero, será el primero que anclará en ese puerto.

El crucero salió desde Miami, con destino a Cabo Rojo ese mismo día partirá a la Isla Catalina, desde donde partirá para Aruba, Curazao, Bonaire, Tórtola, Puerto Rico, Bahamas y tiene previsto regresar a Miami, Florida, su punto de partida.

Castillo, Laura. (enero 04 de 2024). Sector Turístico de: https://listindiario.com/economia/sector-turistico/20240104/visible-primer-crucero-anclara-cabo-rojo_789595.html

¿De acuerdo con el texto anterior, qué tipo de actividad es común en los lugares que recorrerá el crucero?

- A)** Turística.
- B)** Tecnológica.
- C)** Zonas francas.
- D)** Ofertas de salud.

15.- Lee el siguiente texto:

La Declaración de Glasgow sobre la acción climática en el turismo es un llamado mundial para desarrollar procesos que ayuden a implementar acciones responsables para reducir las emisiones de gas en las próximas décadas y alcanzar la neutralidad del carbono antes del 2050.

Tomado y adaptado de:

<https://dgapp.gob.donewsfeedicomisopropedernales-firmadeladeclaraciondeglasgow>

De acuerdo con la declaración del texto anterior, ¿cuál puede ser una de las alternativas de solución?

- A)** Producir menos objetos de plástico.
- B)** No usar artículos biodegradables.
- C)** Construir más vivienda de concreto.
- D)** Tirar a los ríos los desechos sólidos.

16.- Lee los siguientes eventos históricos:

1. Independencia de la República Dominicana.
2. Independencia de los Estados Unidos.
3. Independencia de Haití.

De la lista de eventos anteriores, ¿cuál es el orden cronológico en que sucedieron?

- A)** 2, 3 y 1
- B)** 2, 1 y 3
- C)** 1, 2 y 3
- D)** 3, 2 y 1

17.- Lee el siguiente fragmento que apareció en la página web de una institución

Yésica tiene una expresión llena de tristeza. La semana pasada le dijeron que no se puede inscribir en la escuela porque no tiene documento de identidad.

De acuerdo con el texto descrito, ¿cuál de los derechos humanos se le está vulnerando a Yésica?

- A)** Derecho a la alimentación.
- B)** Derecho a la educación.
- C)** Derecho a la vivienda.
- D)** Derecho a la salud.

18.- Lee la siguiente información:

Organizaciones activistas acuden a los alrededores del Palacio Nacional, exigiendo a las autoridades que eviten cualquier modalidad de privatización el agua, refiriéndose a los proyectos en construcción de las hidroeléctricas, alegando que hacen "más daño que bien" a las comunidades aledañas a dichos proyectos.

Un miembro de la Coalición Socioambiental en defensa de las sierras expresó que no puede envenenar a todo un país con carbón, fuel-oil, barcas con proyectos de energía contaminantes y que también con eso se le pone trabas al desarrollo de energías renovables.

Según la información del texto, ¿qué institución tiene la función de dar respuesta a los manifestantes?

- A)** Ministerio de Interior y Policía.
- B)** Ministerio de Energía y Mina.
- C)** Ministerio de Obras Públicas.
- D)** Ministerio de Medio Ambiente y Recursos Naturales.

19.- Observa el siguiente mapa con las rutas marcadas.



Escribe dos razones por las cuáles se utilizan estas rutas para transportar el petróleo.

20.- Lee la siguiente información:

Durante una caravana un grupo de organizaciones de trabajadores de la región se acercó al presidente con letreros y afiches exigiendo la construcción de las aceras y contenes de las calles de su comunidad. Los militares inmediatamente apresaron a algunos de los integrantes de los grupos sociales por molestar al mandatario.

Con esta situación, ¿se vulneró algún derecho a los trabajadores?

Sí

No

¿Por qué?
